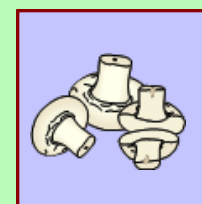


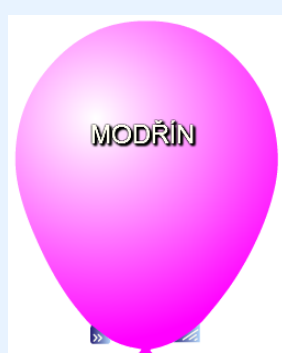



Řekni, jaký význam mají pro člověka stromy (kontrola - klikni na knoflík)



1.4 OPERAČNÍ PROGRAM VZDĚLÁVÁNÍ PRO KONKURENCESCHOPNOST
© Mgr. Zbyněk Zeman - ZŠ a MŠ Staré Hobzí

Patří tyto stromy mezi listnaté?
Pro kontrolu klikni na balonek.



Urči stromy ovocných plodů.
Kontrola - název plodu posuň dolů.

jablko

hruška

třešeň

švestka



meruňka

broskev


višeň

kdoule



Správně dokonči věty, klikni na obdélníky.

Pařez je zbytkem uřezaného stromu.
Počet letokruhů udává stromu.
Na severní straně jsou letokruhy než na jižní.




Co dělá listnatý strom během roku?
Klikni na knoflík.

JARO



LÉTO



PODZIM



ZIMA

