


Přidej k ročnímu období datum.
("Check" - vyhodnocení; "Reset" - znovu/změna;
"Solve" - správné řešení)

Word	Description
<input type="text"/>	PODZIM <input type="text" value="21. prosinec"/>
<input type="text"/>	JARO <input type="text" value="21. červen"/>
<input type="text"/>	ZIMA <input type="text" value="23. září"/>
<input type="text"/>	LÉTO <input type="text" value="21. březen"/>



1.4 OPERAČNÍ PROGRAM VZDĚLÁVÁNÍ PRO KONKURENCESCHOPNOST
© Mgr. Zbyněk Zeman - ZŠ a MŠ Staré Hněbzi

Přečti větu, doplň správný údaj, kontrola - klepni na kartičku

Minuta má  sekund.

Hodina má minut.

Den má hodin.

Týden má dní.

Pracovních dní je .

Volné dny jsou .


Měsíc má nejméně , nejvíce dní.

Měsíc má týdny.

Rok má dní.

Rok má měsíců.

Přestupný rok je jednou za roky.



Řekni, o jaký druh hodin se jedná
(Kontrola - klepni na otazník)



?

?



?

?



?




?

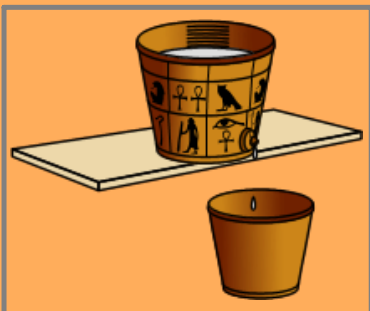
Řekni, o jaký druh hodin se jedná
(Kontrola - klepni na otazník)



?



?



?

?



Přečti větu, doplň správný údaj, kontrola - klepni na kartičku

Dobu před obědem nazýváme

Dobu po obědě nazýváme

Po východu Slunce začíná

Po západu Slunce začíná

Čas měříme pomocí

Co už bylo, je co bude je ,

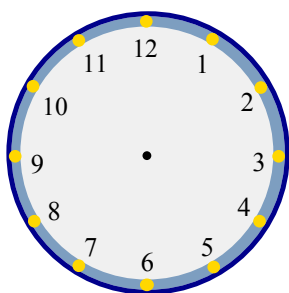
právě teď je



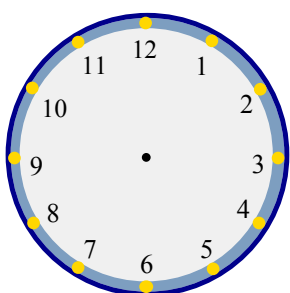
Kolik je hodin?

Podle údajů dokresli malou a velkou ručičku hodin

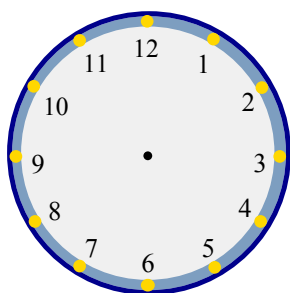
9 hodin



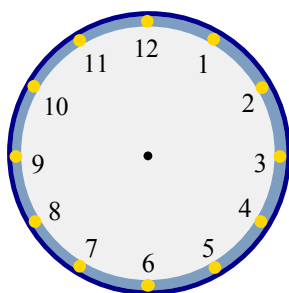
12 hodin



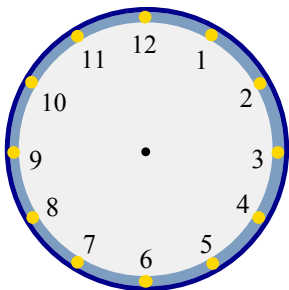
6 hodin



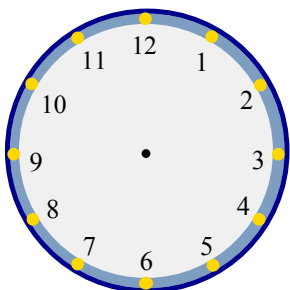
3 hodiny



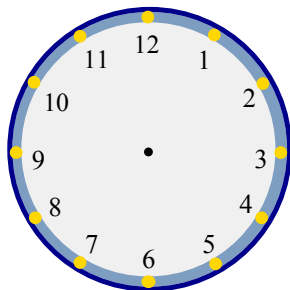
3/4 na tři



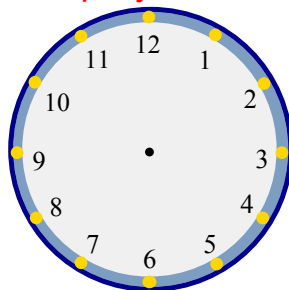
půl třetí



čtvrt na šest



půl jedné



Kolik je hodin?

Podle pokynů pohybuji malou a velkou ručičku hodin

